





1^{er}
cycle




Calculs autour des jardins



Exercices de mathématiques

Primaire



CORRIGÉ

Calculs autour des jardins

Exercice 1 : Dans un jardin, tu peux observer de nombreuses créatures.
Compte le nombre de pattes de chaque créature, puis écris ton résultat.

1.



Nombre de pattes: 6

2.



Nombre de pattes: 0

3.



Nombre de pattes: 2

4.



Nombre de pattes: 8

5.



Nombre de pattes: 4

Exercice 2 : Observe les paniers de récolte du jardin et compte les fruits dans chaque panier, puis écris ton résultat.

Panier 1



Nombre de fruits : 8 fruits (dont 5 fraises et 3 pommes)

Panier 2



Nombre de fruits : 8 fruits (dont 8 cerises et 1 poire)

Panier 3



Nombre de fruits : 4 fruits (dont 1 fraise, 1 pomme, 1 cerise et 1 poire)

FEUILLE D'EXERCICES

Calculs autour des jardins

Exercice 1 : Dans un jardin, tu peux observer de nombreuses créatures.
Compte le nombre de pattes de chaque créature, puis écris ton résultat.

1.



Nombre de pattes: _____

2.




Nombre de pattes: _____

3.



Nombre de pattes: _____

4.



Nombre de pattes: _____

5.



Nombre de pattes: _____



Exercice 2 : Observe les paniers de récolte du jardin et compte les fruits dans chaque panier, puis écris ton résultat.

Panier 1



Nombre de fruits : ___ fruit(s) (dont ___ fraise(s) et ___ pomme(s))

Panier 2



Nombre de fruits : ___ fruit(s) (dont ___ cerise(s) et ___ poire(s))

Panier 3



Nombre de fruits : ___ fruit(s) (dont ___ fraise(s) et ___ pomme(s) et ___ poire(s))

Trousse
À la soupe!

équiterre

Ce projet a été financé par le ministère de l'Agriculture, des Pêcheries et de l'Alimentation du Québec, dans le cadre de la mise en œuvre de la Politique bioalimentaire 2018-2025, Alimenter notre monde.

Québec 